

MATEMATIKA 3. ročník
Opakujeme si probrané učivo



OVLÁDÁM



POTŘEBUJI
PROCVIČIT

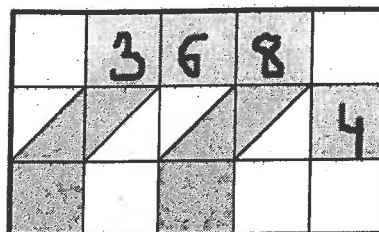
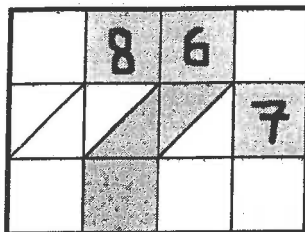
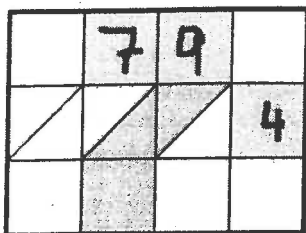


POTŘEBUJI
DOUČIT

Jméno: _____

Datum: _____

Indické násobení. Vypočítej.



Zaokrouhli čísla na

na stovky: 473 ≈ 287 ≈ 732 ≈ 828 ≈
na desítky: 86 ≈ 44 ≈ 475 ≈ 351 ≈



Dělení se zbytkem. Správnost výsledků ověř zkuškou.

23 : 3 = _____ 54 : 7 = _____
3 : 4 = _____ 41 : 6 = _____



Vyřeš slovní úlohu.

V prvním bytovém domě bylo 8 pater po 7 oknech. Ve druhém bytovém domě bylo 9 pater po 8 oknech. Kolik oken měl první bytový dům? Kolik oken měl druhý bytový dům? Kolik oken měly bytové domy dohromady?

Výpočet:
.....
.....

Odpověď:
.....
.....



Doplň. Myslím si číslo:

Když k jeho čtyřnásobku přičtu 3, dostanu 23. Myslím si číslo _____.

